

Θέματα 2^{ου} Πανελληνίου Μαθητικού Διαγωνισμού Οικονομικών 2021
2^η Φάση ΠΛΑΤΩΝ

1. Τα προϊόντα που παράγονται σήμερα μπορούν να μοιραστούν:
 - a. εξίσου σε όλους
 - b. σε όσους εργάζονται
 - c. σε όλους ανάλογα με τις ανάγκες τους
 - d. Με όλους τους παραπάνω τρόπους

2. Άνεργος σημαίνει:
 - a. Αυτός που δεν έχει δουλειά
 - b. Αυτός που δεν βρίσκει δουλειά
 - c. Αυτός που δεν εργάζεται
 - d. Αυτός που δεν θέλει να εργαστεί

3. Οι κοινωνικές επιστήμες δεν διατυπώνουν νόμους αλλά τάσεις. Σωστό ή λάθος;

4. Οικονομική ανάπτυξη μιας χώρας σημαίνει:
 - a. Όλοι γίνονται πλουσιότεροι
 - b. Παράγονται περισσότερα αγαθά και υπηρεσίες
 - c. Αυξάνονται οι μισθοί
 - d. Αυξάνονται τα κέρδη

5. Η οικονομική πολιτική ασχολείται με την επίλυση προβλημάτων όπως αυτό:
 - a. της ανεργίας
 - b. της φτώχειας
 - c. μόνο της ανεργίας
 - d. της φτώχειας και αυτό της ανεργίας

6. Το συγκριτικό πλεονέκτημα μιας χώρας για τον Ricardo σημαίνει:
 - a. Κάθε χώρα πρέπει να παράγει τα εμπορεύματα που είναι ποιοτικά καλύτερα
 - b. Κάθε χώρα πρέπει να παράγει τα εμπορεύματα που είναι φθηνότερα
 - c. Κάθε χώρα πρέπει να παράγει τα εμπορεύματα που και καλύτερα και φθηνότερα
 - d. Κάθε χώρα πρέπει να παράγει τα εμπορεύματα που το κόστος παραγωγής τους είναι φθηνότερο σε αυτήν απ' ό,τι στις άλλες

7. Ο κοινωνικός καταμερισμός της εργασίας σημαίνει:
 - a. Καθένας παράγει ότι μπορεί
 - b. Καθένας παράγει ένα προϊόν ή μια υπηρεσία
 - c. Καθένας παράγει όλα όσα χρειάζεται
 - d. Καθένας παράγει ότι χρειάζεται η αγορά

8. Η ανάπτυξη βλάπτει το περιβάλλον. Σωστό ή λάθος;

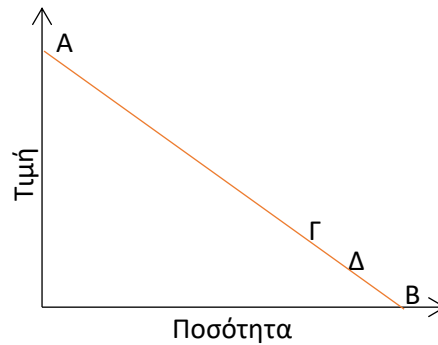
9. Το ΑΕΠ μιας χώρας Α αυξάνεται με ρυθμό 1% ετησίως ενώ μιας άλλης Β, αυξάνεται με 2% ετησίως. Αν το 2020 είχαν το ίδιο ΑΕΠ, ποιο έτος (κατά προσέγγιση) το ΑΕΠ της Β θα είναι διπλάσιο της Α;
 - a. Το 2050
 - b. Το 2090
 - c. Το 2150
 - d. Το 2180

10. Η φράση «ανταγωνιστικό προϊόν», σημαίνει:
 - a. ποιοτικό προϊόν
 - b. φτηνό προϊόν
 - c. καλό προϊόν
 - d. ποιοτικό και σε καλή τιμή προϊόν

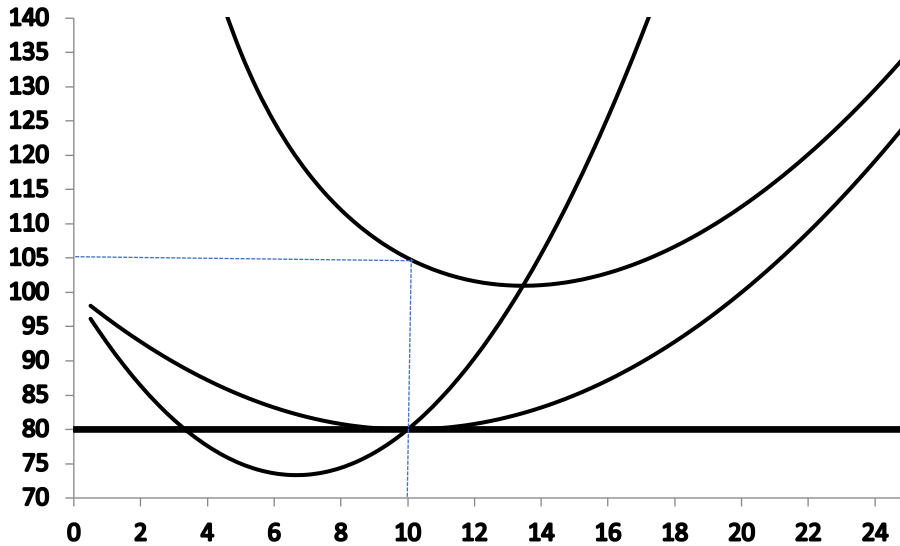
11. Όταν η τιμή ενός αγαθού αυξάνεται από 12 σε 20 ευρώ, με τους λοιπούς παράγοντες που μπορούν να επηρεάσουν τη ζήτησή του να παραμένουν σταθεροί (*ceteris paribus*), η ζητούμενη ποσότητα για το αγαθό μειώνεται από 55 σε 45 κιλά. Στην περίπτωση αυτή η ελαστικότητα ζήτησης ως προς την τιμή ισούται:
 - a. -0,25

- b. -0,4
- c. -0,28
- d. -1,2

12. Η καμπύλη ζήτησης για ένα αγαθό δίνεται από το ευθύγραμμο τμήμα AB.

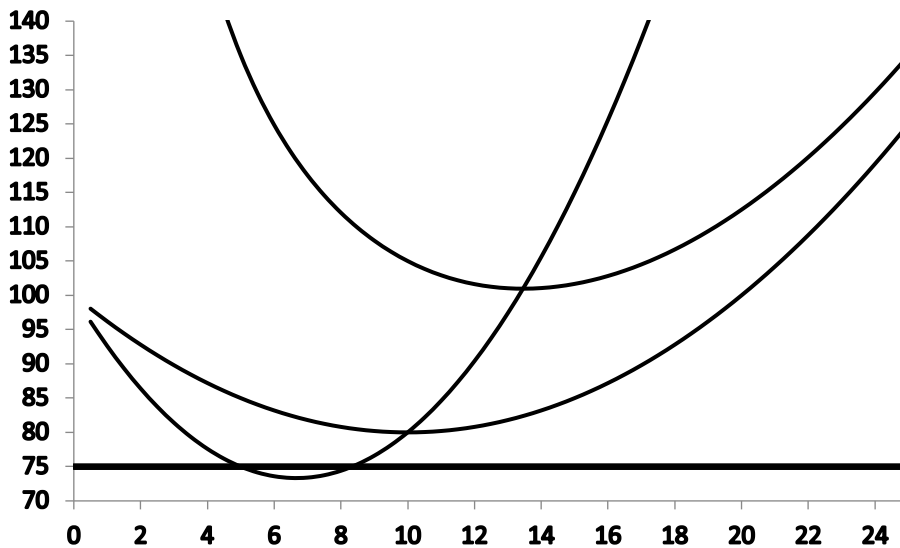


- Μεταξύ των σημείων A, B, Γ, Δ, η συνολική δαπάνη των καταναλωτών είναι η μεγαλύτερη στο
- a. Σημείο A
 - b. Σημείο B
 - c. Σημείο Γ
 - d. Σημείο Δ
13. Σε μια πόλη η τιμή του λίτρου πετρελαίου είναι 1,2 ευρώ, με ελαστικότητα ζήτησης ως προς τη τιμή -0,8. Αν το κράτος επιθυμεί για διάφορους λόγους να μειωθεί η ζητούμενη ποσότητα κατά 10%, μπορεί να αυξήσει την τιμή επιβάλλοντας πρόσθετο φόρο. Ο πρόσθετος φόρος θα ισούται με:
- a. 0,10 €
 - b. 0,125 €
 - c. 0,15 €
 - d. 0,96 €
14. Μια επιχείρηση στη βραχυχρόνια περίοδο χρησιμοποιεί ως μεταβλητούς συντελεστές παραγωγής πρώτες ύλες και εργασία. Εάν η δαπάνη για πρώτη ύλη ανά μονάδα προϊόντος είναι 50 ευρώ, ενώ η αμοιβή του κάθε εργάτη είναι 500 ευρώ, το συνολικό μεταβλητό κόστος παράγοντας 75 μονάδες προϊόντος με τέσσερις εργάτες ισούται με:
- a. 2000 €
 - b. 3750 €
 - c. 4250 €
 - d. 5750 €
15. Στη βραχυχρόνια περίοδο ποιο από τα παρακάτω μεγέθη μειώνεται όσο το μέγεθος του παραγόμενου προϊόντος αυξάνεται:
- a. Μέσο συνολικό κόστος
 - b. Μέσο μεταβλητό κόστος
 - c. Μέσο σταθερό κόστος
 - d. Μέσο οριακό κόστος
16. Στη βραχυχρόνια περίοδο έστω Q_1 και Q_2 είναι οι ποσότητες συνολικού προϊόντος για τις οποίες αντίστοιχα το οριακό κόστος και το μέσο μεταβλητό κόστος λαμβάνουν τις ελάχιστες τιμές. Σε αυτήν την περίπτωση ισχύει η σχέση:
- a. $Q_1 > Q_2$
 - b. $Q_1 = Q_2$
 - c. $Q_1 < Q_2$
 - d. Δεν μπορεί να προσδιοριστεί σχέση μεταξύ Q_1 και Q_2
17. Μια επιχείρηση σε μια τελείως ανταγωνιστική αγορά παράγοντας 10 μονάδες προϊόντος έχει κέρδος 50€, μέσο έσοδο (AR) 30€ και μέσο μεταβλητό κόστος (AVC) 15€. Για την συγκεκριμένη επιχείρηση το μέσο σταθερό κόστος (AFC) θα ισούται με:
- a. 5 €
 - b. 10 €
 - c. 15 €
 - d. 20 €
18. Η επιχείρηση του παρακάτω διαγράμματος (ο οριζόντιος άξονας αναπαριστά μονάδες παραγόμενου προϊόντος) σε μια τελείως ανταγωνιστική αγορά στην οποία η τιμή πώλησης του προϊόντος είναι 80€ έχει μέσο σταθερό κόστος ίσο με:



- a. 10€
- b. 15€
- c. 20€
- d. 25€

19. Για την επιχείρηση του παρακάτω διαγράμματος σε μια τελείως ανταγωνιστική αγορά στην οποία η τιμή πώλησης του προϊόντος είναι 75€ ισχύει ότι:



- a. Καλύπτει το συνολικό κόστος και επομένως έχει κέρδη
- b. Καλύπτει το σταθερό κόστος και τμήμα του μεταβλητού κόστους και επομένως στη βραχυχρόνια περίοδο τη συμφέρει να παράγει
- c. Δεν καλύπτει το μεταβλητό κόστος και επομένως στη βραχυχρόνια περίοδο δεν τη συμφέρει να παράγει
- d. Είναι αδιάφορο για την επιχείρηση αν θα παράγει ή όχι γιατί η ζημία της ισούται με το σταθερό κόστος

20. Ο όρος ακαθάριστη ιδιωτική επένδυση περιλαμβάνει _____, που αποτελεί κατ' ουσίαν _____ του κεφαλαίου της οικονομίας.

- a. τόσο την απόσβεση όσο και το υπόλοιπο μέρος της επένδυσης /μείωση
- b. τόσο την απόσβεση όσο και το υπόλοιπο μέρος της επένδυσης /αύξηση
- c. τόσο την επένδυση όσο και το υπόλοιπο μέρος της απόσβεσης /αύξηση

- d. τόσο την επένδυση όσο και το υπόλοιπο μέρος της απόσβεσης /μείωση
21. Πολλές κυβερνήσεις δίνουν τη δυνατότητα στις Κεντρικές Τράπεζες (Central Banks) να διαχειριστούν το νόμισμα, γιατί:
- Ο μόνος τρόπος να διανεμηθεί στις τράπεζες είναι μέσω της Κεντρικής Τράπεζας (Central Bank)
 - Η μεγαλύτερη ποσότητα του χρήματος μπορεί να οδηγήσει σε χαμηλότερα επίπεδα πληθωρισμού
 - Η Κεντρική Τράπεζα κάνει χρήση του δικαιώματος αυτού ώστε να αποκτήσει κέρδος που θα καλύψει τα λειτουργικά της έξοδα
 - Η τύπωση χρήματος μπορεί να είναι προς όφελος μια κυβέρνησης, και συνεπώς να επιθυμεί την συνεχόμενη τύπωση χρήματος
22. Εάν η τράπεζα της Αγγλίας επιθυμούσε να ακολουθήσει μια επεκτατική (expansionary) νομισματική πολιτική, τότε:
- Θα αύξανε το βασικό επιτόκιο
 - Θα αύξανε το ελάχιστο ποσοστό των υποχρεωτικών ρευστών διαθεσίμων
 - Θα πουλούσε κρατικούς τίτλους (government securities) στην ανοικτή αγορά (open market)
 - Θα αγόραζε κρατικούς τίτλους (government securities) στην ανοικτή αγορά (open market)
23. Από τα τρία κίνητρα για τη διακράτηση χρήματος που πρότεινε ο Keynes, ποιο πίστευε ότι είναι το πιο ευαίσθητο ως προς τα επιτόκια;
- Το κίνητρο συναλλαγών (transactions motive).
 - Το κίνητρο προφύλαξης (precautionary motive).
 - Το κερδοσκοπικό κίνητρο (speculative motive).
 - Το αλτρουιστικό κίνητρο (altruistic motive).
24. Στο Κεϋνσιανό υπόδειγμα η ζητούμενη ποσότητα χρήματος συσχετίζεται _____ με το εισόδημα και συσχετίζεται _____ με το επιτόκιο.
- θετικά, θετικά
 - θετικά, αρνητικά
 - αρνητικά, αρνητικά
 - αρνητικά, θετικά
25. _____ είναι εκείνος του οποίου ο φορολογικός συντελεστής αυξάνεται, καθώς αυξάνεται η φορολογική βάση.
- Αντίστροφα Προοδευτικός φόρος
 - Προοδευτικός φόρος
 - Ενδιάμεσος φόρος
 - Φόρος βάσης
26. Με επιτόκιο 6%, η παρούσα αξία όταν έχουμε 100 ευρώ το επόμενο έτος είναι περίπου
- 106,00 ευρώ.
 - 94,34 ευρώ.
 - 94,89 ευρώ.
 - 94,00 ευρώ.
27. Μια _____ του νομίσματος μιας χώρας _____ τις εξαγωγές της χώρας.
- ανατίμηση / αυξάνει
 - υποτίμηση / αυξάνει
 - υποτίμηση / μειώνει
 - σταθεροποίηση/ μειώνει
28. Ποια είναι η μελλοντική αξία ενός ποσού 1000 Ευρώ μετά από 3 χρόνια γνωρίζοντας ότι το επιτόκιο ανατοκισμού είναι 3% και ο ανατοκισμός είναι ετήσιος;
- 1100,10 ευρώ
 - 1062,83 ευρώ
 - 1092,73 ευρώ
 - 1084,53 ευρώ
29. Τα κέρδη μίας επιχείρησης με τρεις μετόχους ανέρχονται σε 300.000€. Αποφασίζεται ότι θα δοθούν μερίσματα ύψους 40% των συνολικών κερδών. Ο μεγαλύτερος μέτοχος έχει τριπλάσιο μερίδιο από τον μικρότερο μέτοχο και ο μικρότερος μέτοχος το μισό μερίδιο από τον δεύτερο. Πόσα χρήματα θα εισπράξει ο δεύτερος μέτοχος.
- 100.000 €
 - 80.000 €
 - 40.000 €
 - 26.666 €

30. Σε μία αγορά δύο καταναλωτών A και B, με συναρτήσεις ζήτησης $Q_{DA} = 100 - P$ και $Q_{DB} = 50 - P$, η τιμή ισορροπίας είναι $P=70\text{€}$. Να προσδιοριστεί η αγοραία ζητούμενη ποσότητα.
- 10 €
 - 20 €
 - 30 €
 - $Q_{DAT} = 150 - 2 \cdot P$
31. Μία οικονομία διαθέτει δύο αγαθά: ένα ελεύθερο αγαθό και ένα οικονομικό αγαθό. Η οικονομία χρησιμοποιεί όλους τους παραγωγικούς συντελεστές που έχει στη διάθεσή της αποδοτικά (ορθολογικά) και η τεχνολογία της παραγωγής είναι δεδομένη. Επομένως, μπορεί να κατασκευαστεί η Καμπύλη Παραγωγικών Δυνατοτήτων. Σωστό ή λάθος;
32. Το ποσό που αναγράφεται σε μία συναλλαγματική και καταβάλλεται κατά τη λήξη της ονομάζεται:
- Ονομαστική αξία
 - Παρούσα αξία
 - Προεξόφλημα
 - Επιτόκιο
33. Όλα τα σημεία μίας Καμπύλης Παραγωγικών Δυνατοτήτων μίας οικονομίας αντιστοιχούν στο ίδιο επίπεδο Α.Ε.Π. Σωστό ή Λάθος
34. Η επιβολή κατώτατων τιμών για την προστασία των παραγωγών οδηγεί σε _____ της συνολικής δαπάνης των καταναλωτών.
- Αύξηση
 - Μείωση
 - ίδιο επίπεδο
 - όλα τα παραπάνω, κατά περίπτωση
35. Ένα δάνειο εξοφλείται σε 10 ετήσιες τοκοχρεωλυτικές δόσεις των 1.000€ εκάστη. Ποιο από τα παρακάτω είναι πιθανό να συμβαίνει, αν το επιτόκιο είναι θετικό.
- Η παρούσα αξία του δανείου είναι 10.000€
 - Οι πρώτες δόσεις αποπληρώνουν κυρίως τόκους και οι τελευταίες κυρίως κεφάλαιο
 - Οι πρώτες δόσεις αποπληρώνουν κυρίως κεφάλαιο και οι τελευταίες κυρίως τόκους
 - Όλες οι δόσεις αποπληρώνουν σταθερό ποσό κεφαλαίου και σταθερούς τόκους
36. Η οικονομική (βέλτιστη) ποσότητα παραγγελίας **ΔΕΝ** εξαρτάται από:
- το κόστος παραγγελίας
 - την ζήτηση
 - το κόστος διατήρησης αποθέματος (αποθήκευσης)
 - την τιμή πώλησης
37. Το πρόγραμμα εμβολιασμού για τον covid-19 σχετίζεται πρωταρχικά με κριτήρια:
- Γεωγραφικά
 - Δημογραφικά
 - Ψυχολογικά
 - Αγοραστικής συμπεριφοράς
38. Ανάμεσα στις κυριότερες αποφάσεις που καλούνται σήμερα τα στελέχη μιας φαρμακευτικής εταιρείας να λάβουν για την άμεση παραγωγή εμβολίου covid-19 είναι:
- (Περισσότερες από μία σωστές απαντήσεις)
- Επάρκεια Προσωπικού
 - Τεχνογνωσία
 - Επάρκεια Παραγωγής
 - Η ετικέτα του προϊόντος
39. Η τιμολογιακή πολιτική ενός εμβολίου covid-19 εν μέσω πανδημίας επηρεάζεται από τους παρακάτω εξωτερικούς παράγοντες:
- (Περισσότερες από μία σωστές απαντήσεις)
- Οικονομική συγκυρία
 - Επίδραση μεσαζόντων
 - Ύπαρξη αρχηγού τιμής
 - Κράτος και νομοθεσία
40. Η ζήτηση του Βασίλη για ζάχαρη μπορεί να επηρεαστεί από:
- α) Την τιμή της ζάχαρης
 - β) Την τιμή του καφέ
 - γ) Το πλήθος των καταναλωτών.
 - δ) Όλα τα παραπάνω