



Θέματα Πολλαπλών Επιλογών & Σωστού/Λάθους

1. Ποιο από όλα τα συμβάντα έγινε στις αρχές του 21ου αιώνα;
 - a. Η Μεγάλη Ύφεση (Great Depression)
 - b. Η Μεγάλη Πτώση (Great Recession)
 - c. Η 2η Βιομηχανική Επανάσταση
 - d. Κατάρρευση Κανόνα Χρυσού
2. Ποιο από τα παρακάτω περιγράφει καλύτερα την έννοια του εμπορικού ελλείμματος;
 - a. Μια χώρα αγοράζει από τις άλλες χώρες περισσότερα από όσα πουλάει σε αυτές
 - b. Μια χώρα αγοράζει από τις άλλες χώρες λιγότερα από όσα πουλάει σε αυτές
 - c. Το ΑΕΠ μιας χώρας μειώνεται συνεχώς για τρία τρίμηνα
 - d. Τα δημόσια έσοδα μιας χώρας είναι μικρότερα των δαπανών
3. Η αγορά ομολόγων του δημοσίου έχει μικρότερο κίνδυνο από την αγορά μετοχών, που έχει μικρότερο κίνδυνο από την επένδυση σε μια νεοφυή επιχείρηση (start-up). **Σωστό ή Λάθος;**
4. Αν όλες οι επιχειρήσεις μειώσουν τους μισθούς των εργαζομένων προκειμένου να αυξήσουν τα κέρδη τους, τότε σύντομα θα δουν τα κέρδη τους να μειώνονται. **Σωστό ή Λάθος;**
5. Επιχειρήσεις εντάσεως εργασίας, είναι αυτές που για την παραγωγή των προϊόντων τους χρησιμοποιούν πολλούς εργαζόμενους. **Σωστό ή Λάθος;**
6. Βιώσιμη ή αειφόρος ανάπτυξη σημαίνει:
 - a. Επιδιώκει τη μέγιστη δυνατή εκμετάλλευση των φυσικών πόρων
 - b. Ενδιαφέρεται για τη μέγιστη ευημερία των ανθρώπων
 - c. Λαμβάνει υπόψη της την προστασία του περιβάλλοντος και τη δυνατότητα να χρησιμοποιηθούν οι φυσικοί πόροι και στο μέλλον
 - d. Επιδιώκει τη συνεχή ανάπτυξη για πάντα
7. Πρέπει να γίνεται προσπάθεια για απόκτηση μόνο νέων πελατών, αφού οι υφιστάμενοι είναι δεδομένοι. **Σωστό ή Λάθος;**
8. Η ικανοποίηση των πελατών είναι το κλειδί για τη δημιουργία σταθερών και διαρκών πελατειακών σχέσεων. **Σωστό ή Λάθος;**
9. Οι πελάτες επιλέγουν προϊόντα και υπηρεσίες που τους προσφέρουν την ανώτατη αξία όπως την αντιλαμβάνονται οι επιχειρήσεις. **Σωστό ή Λάθος;**
10. Ο βαθμός ικανοποίησης του πελάτη εξαρτάται από την επίδοση κάποιου προϊόντος, δηλαδή σε ποιο βαθμό ανταποκρίνεται στις προσδοκίες του. **Σωστό ή Λάθος;**
11. Οι λειτουργικές εκπτώσεις προσφέρονται στους μεσάζοντες. **Σωστό ή Λάθος;**

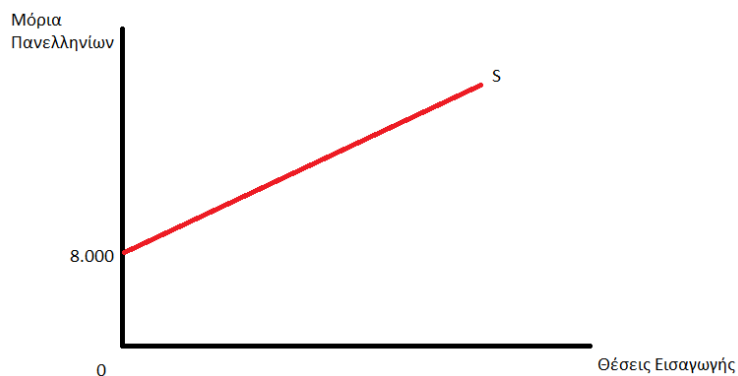
12. Οι εκπτώσεις που βελτιώνουν τη ρευστότητα είναι:
- Εποχιακές εκπτώσεις
 - Έγκαιρης εξόφλησης
 - Ποσοτικές εκπτώσεις
13. Οι χονδρέμποροι κατατάσσονται σε εκείνους που:
- Αποκτούν την κυριότητα και ευθύνη της διάθεσης των προϊόντων
 - Διευκολύνουν τις αγοραπωλησίες
 - Έχουν τίτλους ιδιοκτησίας (αντιπρόσωποι-μεσίτες)
14. Οι επιχειρήσεις χρησιμοποιούν τη δημοσιότητα: **(2 σωστές απαντήσεις)**
- Για πολιτικούς λόγους
 - Για να καλλιεργήσουν θετική, δημόσια εικόνα καλής διάθεσης
 - Για να αυξήσουν την αναγνωσιμότητα των προϊόντων τους
15. Η στενότητα των πόρων σημαίνει ότι
- συχνά δεν έχουμε επαρκείς πόρους για να πετύχουμε τους στόχους μας.
 - οι ανάγκες των ανθρώπων είναι περιορισμένες.
 - θα υπάρχουν φτωχοί άνθρωποι και νοικοκυριά σε πλούσιες χώρες.
 - ελλείμματα σε προϊόντα θα υπάρχουν σχεδόν σε όλες τις αγορές.
16. Υποθέστε ότι έχετε 500 ευρώ και μπορείτε να τα ξοδέψετε είτε για να αγοράσετε βιβλία οικονομικών ή για να αγοράσετε ένα τάμπλετ. Αν επιλέξετε να αγοράσετε τα βιβλία οικονομικών, τότε το κόστος ευκαιρίας της επιλογής σας είναι ...
- 500 ευρώ.
 - η απώλεια της ευκαιρίας να χαρείτε το νέο τάμπλετ.
 - τα 500 ευρώ και η απώλεια της ευκαιρίας να χαρείτε το νέο τάμπλετ.
 - δεν μπορεί να προσδιοριστεί με βάση τα δεδομένα της εκφώνησης.
17. Έστω ότι μια οικονομία παράγει δύο προϊόντα (A και B), χρησιμοποιώντας όλους τους παραγωγικούς συντελεστές με την υπάρχουσα τεχνολογία. Έστω ότι η αξία του αγαθού A θεωρείται ίση με 7 ευρώ και του αγαθού B ίση με 11 ευρώ. Οι ποσότητες των προϊόντων που είναι δυνατόν να παραχθούν ταυτόχρονα είναι οι εξής:

A	0	1	2	3	4	5
B	30	28	24	18	10	0

- Αν η οικονομία αυτή παράγει τέσσερις μονάδες από το προϊόν A ανά περίοδο, να βρεθεί το μέγιστο Α.Ε.Π. που μπορεί να παραχθεί ανά περίοδο.
- 330
 - 365
 - 138
 - 28

18. Θεωρήστε ότι η ελάχιστη βάση εισαγωγής (Ε.Β.Ε.) στην κατεύθυνσή σας είναι 8.000 μόρια. Η σχολή που επιθυμείτε να εισαχθείτε θα δεχθεί μέχρι και 200 φοιτητές. Ποια από τις ακόλουθες είναι η πιο κατάλληλη συνάρτηση προσφοράς θέσεων εισαγωγής για τη σχολή σας;

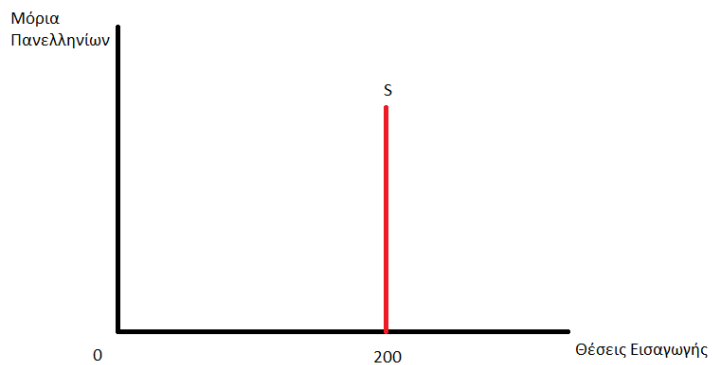
(α)



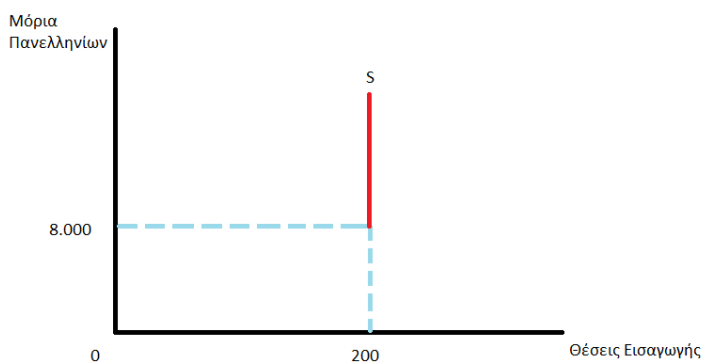
(β)



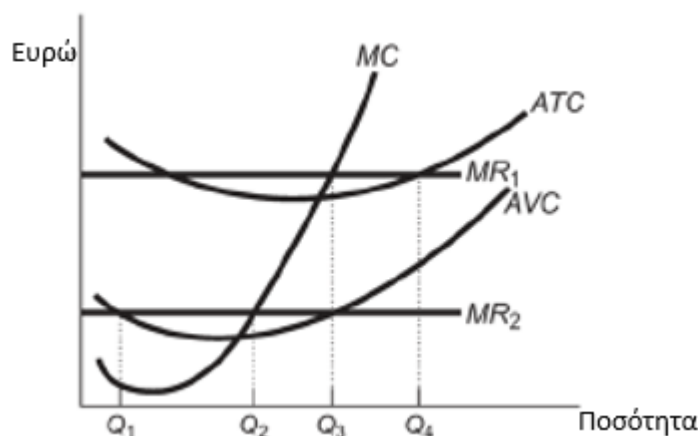
(γ)



(δ)



19. Ποια από τις παρακάτω προτάσεις ισχύει, στην περίπτωση ενός κατώτερου αγαθού (για μεταβολές *ceteris paribus*);
- Όταν αυξάνεται το εισόδημα, η συνολική δαπάνη θα παραμένει αμετάβλητη.
 - Όταν αυξάνεται το εισόδημα, η συνολική δαπάνη θα μειώνεται.
 - Όταν αυξάνεται το εισόδημα, η συνολική δαπάνη θα αυξάνεται.
 - Όταν αυξάνεται το εισόδημα, η κατεύθυνση της μεταβολής στη συνολική δαπάνη είναι αδύνατο να προβλεφθεί.
20. Έστω ότι η τιμή της βενζίνης αυξάνεται κατά 5% και η ζητούμενη ποσότητα μειώνεται κατά 1%. Η ελαστικότητα ζήτησης ως προς την τιμή είναι ίση με και η ζήτηση περιγράφεται ως
- 0,2 ανελαστική.
 - 5 ανελαστική.
 - 0,2 ελαστική.
 - Τίποτα από τα παραπάνω.
21. Έστω ότι είστε ιδιοκτήτες ενός εστιατορίου. Ποιο στοιχείο της παραγωγικής διαδικασίας είναι περισσότερο πιθανό να είναι σταθερό στο εστιατόριο σας;
- Η αίθουσα εστίασης.
 - Το ψωμί που χρησιμοποιείτε για να ετοιμάσετε τα σάντουιτς.
 - Η σάλτσα που χρησιμοποιείτε για να ετοιμάσετε σούπες.
 - Οι εργαζόμενοι.
22. Όταν το μέσο συνολικό κόστος (ATC) συναντά το οριακό κόστος (MC), τότε η επιχείρηση λειτουργεί ...
- στο μέρος της καμπύλης του μέσου συνολικού κόστους με κατερχόμενη κλίση.
 - στο μέρος της καμπύλης του μέσου συνολικού κόστους με ανερχόμενη κλίση.
 - στη χαμηλότερη τιμή του μέσου συνολικού κόστους.
 - στην υψηλότερη τιμή του μέσου συνολικού κόστους.
23. Αν μια τέλεια ανταγωνιστική επιχείρηση έχει καμπύλη οριακών εσόδων την MR_1 , τότε η επιχείρηση θα μεγιστοποιήσει τα κέρδη της αν παράγει μονάδες προϊόντος και τα κέρδη της θα είναι ...



- a. Q1 θετικά.
- b. Q2 αρνητικά.
- c. Q3 θετικά.
- d. Q4 αρνητικά.

24. Σας προσφέρω €100 ετησίως για τα επόμενα 5 χρόνια εάν μου δώσετε €421 σήμερα. Θα δεχόσασταν εάν το επιτόκιο είναι στο 5%;

- a) Ναι β) Όχι

25. Ποια η συνολική παρούσα αξία 500 Ευρώ που εισπράττονται στο τέλος κάθε τριμήνου για τα επόμενα 2 έτη υποθέτοντας επιτόκιο ανατοκισμού 8% και τριμηνιαίο ανατοκισμό;

- a) 3660 β) 4200 γ) 940

26. Με επιτόκιο 4%, η παρούσα αξία όταν έχουμε 100 ευρώ το επόμενο έτος είναι περίπου:

- a) 104 ευρώ β) 96 ευρώ γ) 93 ευρώ δ) 92 ευρώ

27. Ποιο από τα ακόλουθα δεν αποτελεί αδυναμία του ΑΕΠ ως δείκτη οικονομικής ευημερίας:

- a) Το Α.Ε.Π. δεν περιλαμβάνει την αξία της παραγωγής που αφορά στην ιδιοκατανάλωση, γιατί αυτή δε γίνεται αντικείμενο αγοραπωλησίας.
- β) Το Α.Ε.Π. είναι ποσοτικός και όχι ποιοτικός δείκτης.
- γ) Το Α.Ε.Π. αγνοεί τη σύνθεση και την κατανομή της παραγωγής
- δ) Το Α.Ε.Π. δεν συμπεριλαμβάνει την αξία των αγαθών και υπηρεσιών της παραοικονομίας.
- ε) Το ΑΕΠ μετράει το σύνολο των τελικών αγαθών και υπηρεσιών σε μια δεδομένη χρονική περίοδο

28. Η νομισματική βάση (monetary base) είναι:

- a) Το άθροισμα του χρήματος που κυκλοφορεί και τα αποθέματα των εμπορικών τραπεζών
- β) Το άθροισμα του χρήματος που κυκλοφορεί και των καταθέσεων που έχουν στη διάθεσή τους οι εμπορικές τράπεζες
- γ) Το άθροισμα του συναλλάγματος και του χρυσού που έχει στην κατοχή της η Κεντρική Τράπεζα
- δ) το άθροισμα των πραγματικών περιουσιακών στοιχείων (assets) στον τραπεζικό τομέα συν την καθαρά αξία

29. Μια πολιτική _____ των υποχρεωτικών διαθεσίμων είναι μια _____ πολιτική εκ μέρους της κεντρικής Τράπεζας.
- α) Μείωσης / Περιοριστική β) Αύξησης / Επεκτατική
γ) Μείωσης / Επεκτατική δ) Μείωσης / Ουδέτερη
30. Ποιο από τα παρακάτω δεν κάνει η Εκδοτική Τράπεζα ή Κεντρική Τράπεζα:
- α) Έχει το αποκλειστικό δικαίωμα να εκδίδει χαρτονομίσματα.
β) Παρότι είναι ανεξάρτητη ως προς τη διαμόρφωση της νομισματικής πολιτικής, είναι η τράπεζα μέσω της οποίας ο δημόσιος τομέας διεκπεραιώνει σημαντικές οικονομικές συναλλαγές του.
γ) Ασκεί έλεγχο στη γενική λειτουργία των εμπορικών τραπεζών.
δ) Ασκεί τη νομισματική και πιστωτική πολιτική και προσδιορίζει την ποσότητα του χρήματος που κυκλοφορεί στην οικονομία
ε) Ασκεί την δημοσιονομική πολιτική σε μια χώρα

Θέματα μικρής ανάπτυξης (έως 50 - 60 λέξεις) - Διαλέγετε τα 5 εκ των 6 θεμάτων

1. Εξηγείστε για ποιον λόγο ο τόπος εγκατάστασης έχει μεγάλη σημασία για την παραγωγή μιας επιχείρησης; (Ζουμπουλάκης)
2. Αναλύστε τη μέθοδο πρόβλεψης πωλήσεων «τεστ της αγοράς». Αναφέρετε πλεονεκτήματα μειονεκτήματα. (Κονταξή)
3. Είσατε στέλεχος μιας τουριστικής επιχείρησης. Αναφέρετε πέντε (5) μικρές και μεγάλες αποφάσεις που πρέπει να λάβετε για να προσελκύσετε τουρίστες/πελάτες τρίτης ηλικίας. (Κονταξή)
4. Αναλύστε τις βασικές αιτίες δημιουργίας ενός μονοπωλίου στην παραγωγή ενός προϊόντος.
5. Να περιγράψετε σε ένα κείμενο 10 σειρών το μέγιστο μια επεκτατική νομισματική πολιτική από την κεντρική τράπεζα μιας χώρας χρησιμοποιώντας το εργαλείο του προεξοφλητικού επιτοκίου (Παπαδάμου)
6. Να περιγράψετε σε ένα κείμενο 10 σειρών το μέγιστο ποια η διαφορά μεταξύ πληθωρισμού κόστους και πληθωρισμού ζήτησης. (Παπαδάμου)

Καλή Επιτυχία!
Ραντεβού στην
4^η Διεθνή Ολυμπιάδα Οικονομικών 2021
26 Ιουλίου - 1 Αυγούστου 2021 - Λετονία (online)

Η Επιτροπή του 2^{ου} Πανελληνίου Μαθητικού Διαγωνισμού
Οικονομικών